




四、画一画。(6分)

1. 画一个平行四边形。	2. 画一个钝角。	3. 画一画,用你喜欢的方式表示 1794。
		<div style="border: 1px solid black; height: 100px; width: 100%;"></div>

五、仔细辨认。(11分)


1. 星期天,小明帮妈妈做家务。(6分)

开始 结束



()时()分

()分




:

2. 按要求画一画。(5分)

- 在☆的西面。
- 在☆的东面。
- ☺在☆的西北面。
- 的南面是△。
- 的西南面是♡。

	☆	





北



东

六、调查与记录。(10分)

下面是电器商店一周的销售情况。

电器				
数量/台	正一	下	正下	正下

- ①这一周电器商店销售了()台冰箱,()台电视机,()台电风扇,()台空调。
- ②这一周电器商店一共销售了()台电器。

七、解决问题。(18分)

1. 每个蛋托最多放 6 个鸡蛋。要将 41 个鸡蛋全部放在蛋托里,至少需要多少个蛋托?(6分)

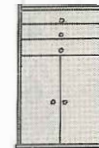
2. 商店。(6分)



298 元



435 元



960 元

①自行车和沙发一共多少元?

②衣柜比沙发贵多少元?

3. (6分)



学校组织一、二年级的学生看电影。

一年级	266 人
二年级	239 人

共有 500 个座位

①去看电影的学生一共有多少人?

②座位够吗?座位数和学生数相差多少?

※智力挑战!(10分)

1. 按右图的方式穿珠子,从左往右数,第 12 颗是()色,第 18 颗是()色,第 30 颗是()色,第 44 颗是()色。



2. 用六个不同的数字组成两个三位数,使它们的和是 1000。

$$\square\square\square + \square\square\square = 1000$$