

成都市青羊区小学 2017—2018 年度上期

一年级数学期末检测题

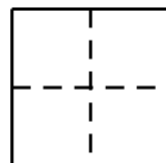
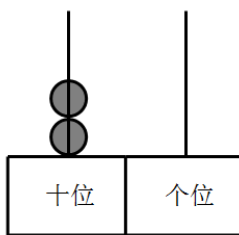
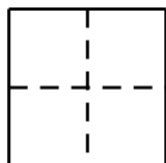
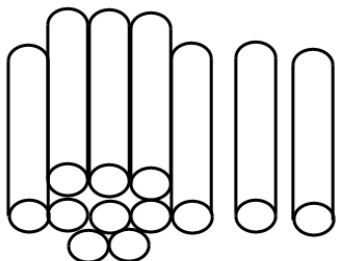
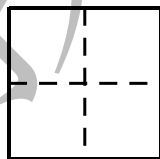
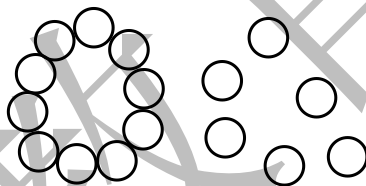
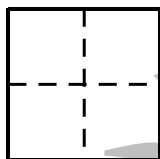
编者: 唐致瑶老师

一、口算.(15 分, 每题 0.5 分)

$7+2=9$	$8+4=12$	$18-3=15$	$4+5=9$	$12+5=17$
$5+8=13$	$9-4=5$	$11+2=13$	$9-2=7$	$4+9=13$
$9-9=0$	$7+5=12$	$10-4=6$	$7+8=15$	$4-0=4$
$17-4=13$	$10-8=2$	$5+6=11$	$12-1=11$	$10+6=16$
$8+6=14$	$9+4=13$	$7-5=2$	$16-4=12$	$3+4=7$
$2+9=11$	$6+7=13$	$8+2=10$	$3+9=12$	$5+7=12$

二、我会填.(30 分, 1~5 小题每空 1 分, 6、7 小题 4 分, 8 题 6 分)

1. 看图写数



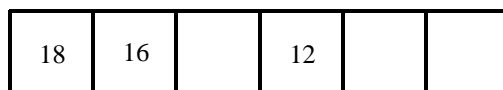

【答案】从左往右, 先上后下依次为 7,16,12,20

2. 5 个一和 1 个十组成(15), 2 个十是(20)

3. 17 的个位上是(7), 十位上是(1).

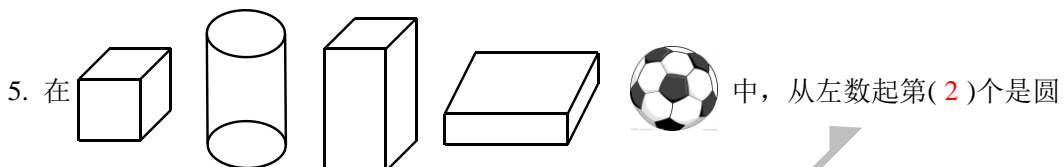


4. 想一想, 填一填.



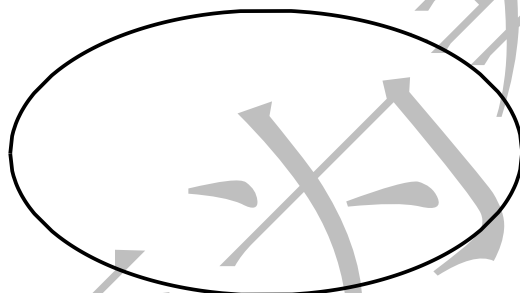
【答案】11,14,16; 14,10,8

【解析】从左往右依次+1; 从左往右依次-2

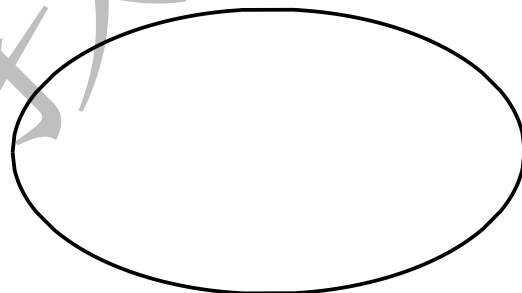


柱, 从左数第 3 个是(长方体).

6. 分一分(4 分).



小于5的数



大于5的数

【答案】3,0,4,1; 7,9,6,8

7. 比一比, 画一画.(4 分, 每小题 2 分)

画 , 使 比 多 2 个.





【答案】;

【解析】4+2=6



画 ，使  比  少 4 个

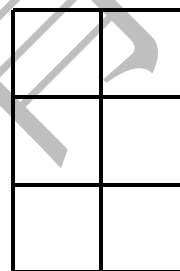


【答案】   ;

【解析】 $6-4=2$

8. 按要求填数.(6 分)

7 和 5 在最上面一行, 7 在 5 的右面. 6 和 2 在最下面一行, 6 的左边是 2. 8 在 2 和 5 的中间. 8 的右面是 4

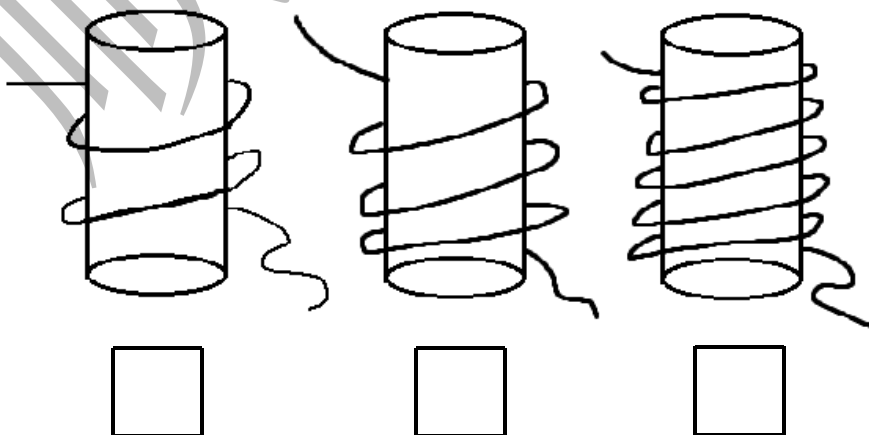


【答案】

5	7
8	4
2	6

三、我会看(14 分)

1. 在最长的下面画 ，在最短的下面画 。(3 分)

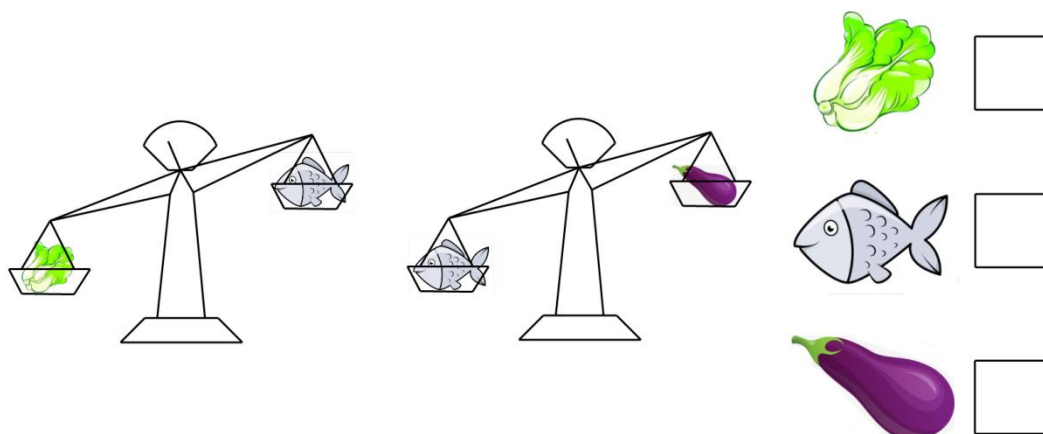


【答案】 第三个画 ，第一个画

【解析】 第三个图形绕得越多，绳子越长；第一个图形绕得越少，绳子越短



2. 在最重的旁边画 , 在最轻的旁边画 .(3 分)

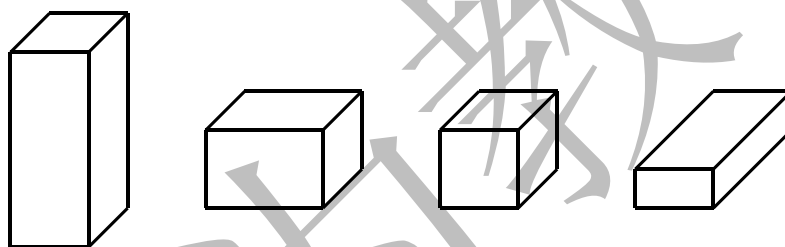


【答案】第一个画√, 第三个画○

【解析】越重的一端, 越低, 白菜比鱼低, 鱼比茄子低, 白菜比鱼重, 鱼比茄子重

3. 圈出不是同一类的那一个.(4 分)

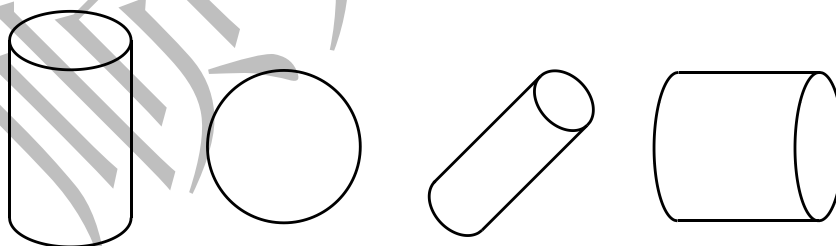
(1)



【答案】第三个画○

【解析】其余都是长方体, 第三个是正方体

(2)

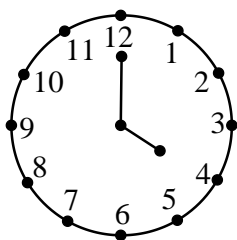


【答案】第二个画○

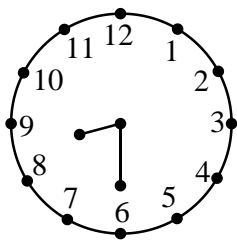
【解析】其余都是圆柱体, 第二个是圆



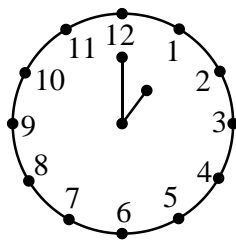
4. 连一连.(4 分)



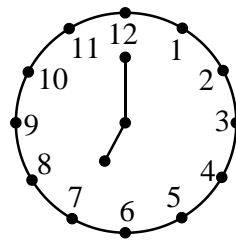
8时半



4时



7时

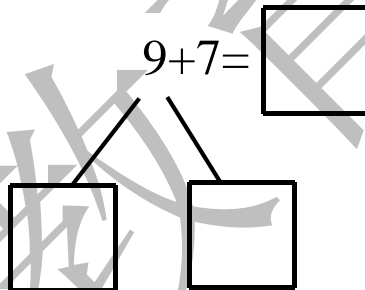
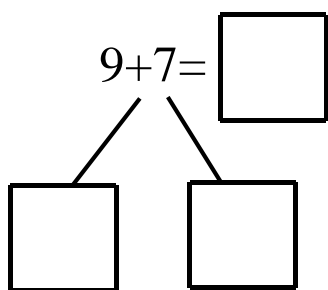


1时

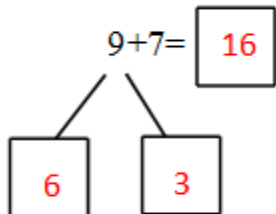
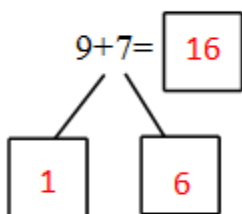
【答案】钟表从左往右依次连 4 时、8 时半、1 时、7 时

四、我会算(14 分)

1. 用“凑十法”计算.(4 分)



【答案】



2. 按规律写算式.(6 分)

(1) $10-4=$ $10-5=$ $10-6=$ $10-7=3$

【解析】被减数都是 10，减数依次+1

(2) $6+5=$ $7+5=$ $8+5=$ $9+5=14$

【解析】一个加数依次+1，另一个加数都是 5

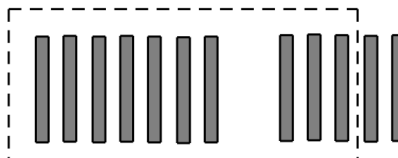
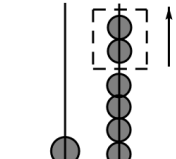
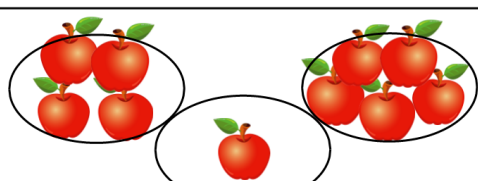
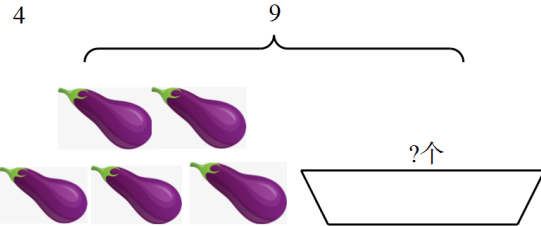
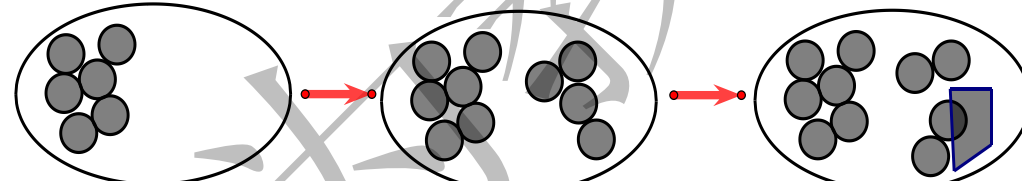
3. 在 \bigcirc 里填上“>”、“<”或“=”.(4 分)

$15 \bigcirc 12$ $4+11 \bigcirc 11$ $5+8 \bigcirc 8+5$ $10-3 \bigcirc 10+3$

【答案】从左往右依次是“>”、“>”、“=”、“<”



五、我会写.(15 分, 每小题 3 分)

<p>1</p>  <p style="text-align: center;">□ + □ = □</p>	<p>2</p>  <p style="text-align: center;">□ - □ = □</p>
<p>3</p>  <p style="text-align: center;">□ ○ □ ○ □ = □</p>	<p>4</p>  <p style="text-align: center;">□ ○ □ = □</p>
<p>5.</p>  <p style="text-align: center;">□ ○ □ ○ □ = □</p>	

【答案】1. $7+5=12$; 2. $16-2=14$; 3. $4+1+5=10$; 4. $9-5=4$; 5. $6+4-2=8$

六、我会解.(12 分, 每题 4 分)

1. 丽丽看书, 上午看了 8 页. 下午和上午看的同样多, 丽丽这一天一共看了多少页?

□ ○ □ = □ (页)

答: 丽丽这一天一共看了_____页书.

【答案】 $8+8=16$

【解析】上午和下午看的同样多, 那么下午也看了 8 页

2. 车上原来有 9 人, 到站后 2 人下车, 又有 7 人上车, 现在车上有多少人?

□ ○ □ ○ □ = □ (人)

答: 现在车上有_____人.

【答案】 $9-2+7=14$

【解析】2 人下车, 车上减少 2 人; 7 人上车, 车上增加 7 人, 车上原来有 9 人, 减去减少的 2 人, 加上增加的 7 人, 现在车上有 14 人



3. 我们一共有 10 个同学.



小明前面有3人，
小明的后面有几人？

算式: _____

答: 小明后面有_____人.

【答案】 $10-3-1=6$

【解析】一共有 10 位小朋友，减去小明前面的三位小朋友，再减去小明，剩下 6 人就是小明后面的人数 6 人

【选做题】20 分.

1.

$$14 - \text{草莓} = 8$$

$$\text{菠萝} + \text{草莓} = 13$$

$$\text{草莓} = \square \quad \text{菠萝} = \square$$

【答案】 6; 7

【解析】 $14-6=8$; $7+6=13$

2. 把 2、3、4、5 分别填入 \square 中，

$$\square + \square - \square = \square$$

$$\square + \square - \square = \square$$



【答案】

$$\boxed{2} + \boxed{5} - \boxed{3} = \boxed{4}$$

$$\boxed{3} + \boxed{4} - \boxed{2} = \boxed{5}$$

【解析】 $2+5=7, 3+4=7$ ，任意选择搭配

顺为教育

