

2017—2018 学年度上期期末综合素质测评

三年级数学

A 卷

一、我会填。(每空 1 分, 共 24 分)

1. 从 100 里面连续减去()个 5, 结果是 0.
2. 计算 $45 + 14 \times 6$ 时, 应该先算()法, 再算()法, 得数是().
3. 如果你每天坚持算 8 道口算题, 那么 2018 年 2 月你一共能算()道口算题.
4. 36 的 5 倍是(); 120 是 4 的()倍.
5. 在 \square 里填上“>”、“<”或“=”.

$26 \times 4 \square 25 \times 5$

$3.6 + 4 \square 3.4 + 6$

$88 \times 0 \square 88 + 0$

$0.8 \text{米} \square 8 \text{分米}$

$3 \text{天} \square 48 \text{小时}$

$3 \text{元} 4 \text{角} - 2 \text{元} 8 \text{角} \square 72 \text{分}$

6. 淘气想给长 6 分米, 宽 4 分米的相框四周围一条花边, 共需要()分米长的花边.
7. 公园门口有一个正方体的雕塑, 每一面都刻有一只可爱的小动物, 站在一个地方看这个雕塑, 最多能看到()只小动物.
8. $0.06 \text{米} = () \text{厘米}$ $0.57 \text{元} = () \text{角} () \text{分}$
 $8 \text{分} = () \text{元}$ $2 \text{小时} 30 \text{分} = () \text{分}$
9. 要配成一套衣服, 有()种不同的搭配方法.



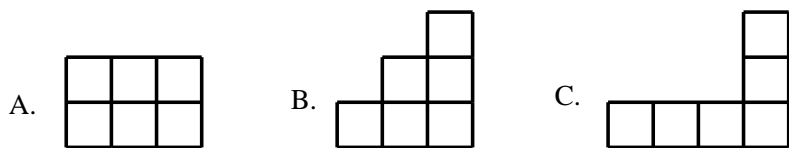
10. 最少用()个同样大的小正方形, 可以拼成一个大正方形.
11. $\square \div 6 = 14 \dots \square$, 余数最大是(), 被除数最大是().

二、选择正确答案的番号.(5 分)

1. 一个三位数乘 9 的积().
 A. 一定是三位数 B. 一定是四位数
 C. 可能是三位数, 也可能是四位数
2. 一个正方形和一个长方形的周长相等, 长方形的周长是 32 分米, 正方形的边长是().
 A. 4 分米 B. 8 分米 C. 16 分米
3. 第一节课下课的时间是 9:05, 中间是大课间时间, 第二节课上课的时间是 9:40, 那么大课间一共有().
 A. 25 分钟 B. 35 分钟 C. 45 分钟
4. 加工同一个零件, 张师傅用了 3 分钟, 王师傅用了 4 分钟, ()加工得快.
 A. 张师傅 B. 王师傅 C. 无法确定



5. 下面图形中, ()的周长最长.



三、我会辩, 正确的画“√”, 错误的画“×”.(6分)

1. 乘数的末尾没有“0”, 那么积的末尾就一定没有“0”. ()
2. $16 \times 5 = 15 \times 6$. ()
3. 2024 年是闰年. ()
4. 一支笔售价为 8.05 元, 表示的意义为 8 元 5 角. ()
5. 每年下半年的天数一定比上半年的天数多. ()
6. 小数 453.19 读作: 四百五十三点十九. ()

四、我会算.(32分)

1. 口算.(12分)

$50 \times 8 =$	$0 \times 3 =$	$3500 \div 7 =$	$1.5 + 7.3 =$
$36 \div 6 =$	$630 \div 9 =$	$66 \div 6 =$	$9.6 - 6.2 =$
$100 - 8 \times 4 =$	$35 + 48 \div 6 =$	$13 \times 8 - 14 =$	$4 \times (74 - 58) =$

2. 竖式计算.(8分)

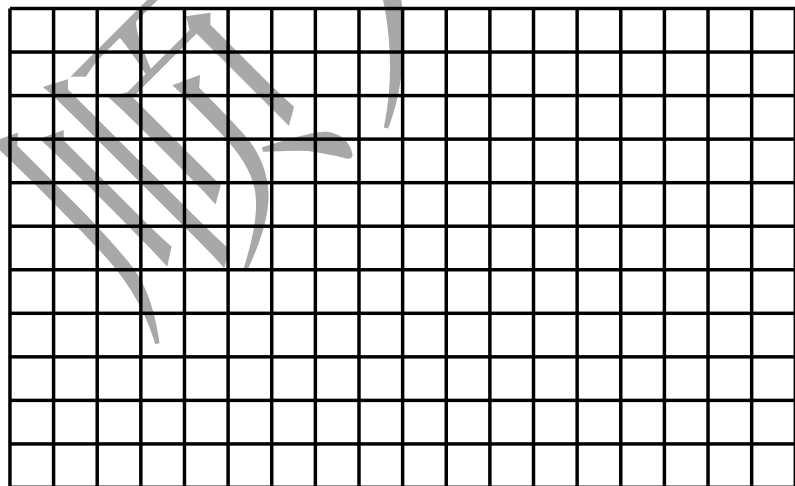
$603 \times 4 =$	$250 \times 8 =$	$7.2 \text{元} + 2.8 \text{元} =$	$20 \text{元} - 15.6 \text{元} =$
------------------	------------------	---------------------------------	---------------------------------

3. 脱式计算.(12分)

$640 \div (185 - 177)$	$192 + 8 \times 18$	$6 \times (128 + 285)$	$8 \times 137 - 136$
------------------------	---------------------	------------------------	----------------------

五、我会动手操作.(11分)

1. 在方格纸上分别画出周长是 20 厘米的长方形和正方形(每小格边长 1 厘米).(4分)




2. 下面的三幅图分别是谁看到的? 连一连.(3分)

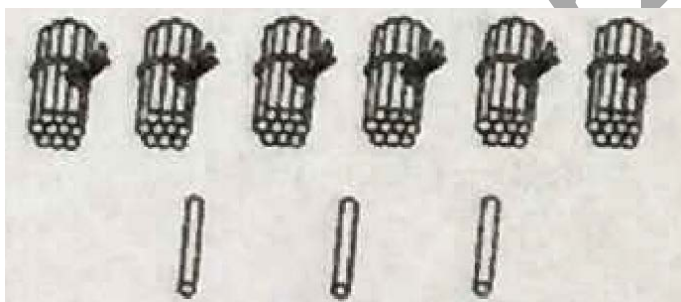




3. 圈一圈，算一算。(4 分)



$14 \times 6 = ()$



$63 \div 3 = ()$

六、我会解决问题。(5 小题 6 分，其余每小题 4 分，一共 22 分)

1. 小明家离学校有 306 米，他每天从家到学校往返两次，一共走多少米？
2. 李阿姨不小心将购物发票弄脏了，你能帮她算出排球的单价吗？

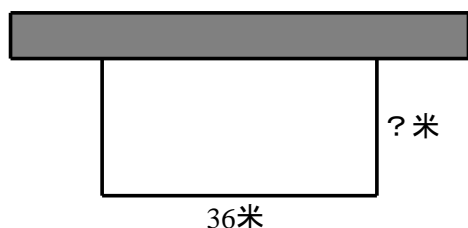
物品名称	单价	数量	总价
篮球	47 元	1 个	297 元
排球		5 个	

3. 三年级同学去野炊，女生有 32 人，男生有 52 人。



4. 如图，一块长方形草地，它的一边靠着墙，其它三面有篱笆围起来，已知篱笆一共 80 米，算一算，这块长方形草地的宽是多少米？





5. 李叔叔家的水表 2017 年下半年读数如下(单位: 吨):

六月底	七月底	八月底	九月底	十月底	十一月底	十二月底
135	200	272	356	356	410	503

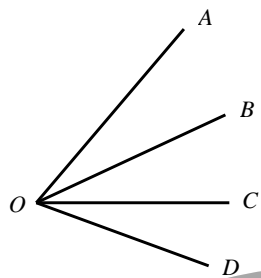
(1)李叔叔家下半年哪个月的用水量最大? 是多少吨?

(2)李叔叔家 7 月份到 12 月份的总用水量是多少吨?

B 卷

一、填空.(每题 2 分, 共 6 分)

1. 数数图形.(2 分)



有()个角

2. ()里填几?(2 分)

$$\begin{array}{r}
 7 \quad \square \quad 2 \\
 - \quad \square \quad 2 \quad \square \\
 \hline
 9 \quad 4
 \end{array}$$

3. 如果 2018 年的 5 月 3 日是星期二, 那么 5 月 18 日是星期().(2 分)

二、我会巧算.(6 分)

(1) $1999 + 467$

(2) $457 - 288 + 43$

(3) $500 - 124 - 176$

三、解决问题.(每题 4 分, 共 8 分)

1. 小明今年 2 岁, 妈妈 26 岁, 几年后妈妈的年龄是小明的 3 倍?

2. 如下图: 用两张相同的正方形纸片, 拼成一个长方形, 结果长方形的周长比之前两个正方形的周长之和减少了 10 厘米, 原来一个正方形的周长是多少厘米?

