

成都市金牛区小学 2017—2018 年度上期

三年级数学期末检测题

编者: 曾兰岚老师

一、静心思考, 正确填写.(共 30 分)

1. 计算 $6-12\div 3$ 时, 应先算()法, 再算()法, 结果得().
2. 站在同一个位置观察讲台上的粉笔盒, 每次最多能看到()个面.
3. 在 \square 里填上“<”、“>”或“=”.

$1.6 \text{ 元} \square 1.8 \text{ 元}$

$12.3 \text{ 元} \square 1.23 \text{ 元}$

$6.0 \text{ 元} \square 6.00 \text{ 元}$

$7 \times 6 - 6 \square 38$

$302 \times 5 \square 320 \times 5$

$(40-8) \div 4 \square 40-8 \div 4$

4. 850 减去 231 与 46 的和, 正确列式是().
5. 先填表格, 再写出算式.

×	30	6
2		

这个表格算的是乘法算式()的得数.

6. 一个长方形的周长是 60 厘米, 它的长与宽的是()厘米; 如果这个长方形的长是 18 厘米, 宽是()厘米.
7. 用四个周长 8 分米的正方形拼成一个大正方形, 这个大正方形的周长是().
8. 250×8 的积的末尾有()个 0.
9. 2018 年是()年, 这年 2 月有()天, 全年有()天.
10. 上午 10 时是()时, 下午 3 时是()时, 21 时 30 分是晚上().
11. 一场电影从 14 时 30 分开始, 经过 2 时 15 分, 在()时()分结束.
12. 两种主食和四个炒菜搭配, 共有()种不同的配餐方法.
13. 填一填.



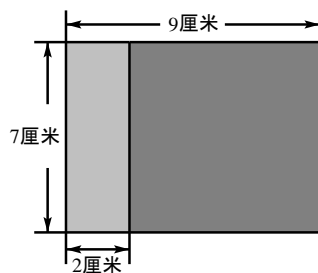
()元

()元

14. 6.35 元=()元()角()分, 1 米 8 厘米=()米

二、精心挑选, 填对序号.(5 分)

1. 计算图中左边小长方形周长的算式是().




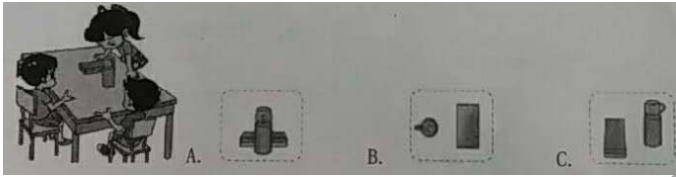
A. $(9+7) \times 2$

B. $7 \times 2 + 2 \times 2$

C. $(7+7) \times 2$



2. $\square 15 \times 9$ 的积()
 A.一定是三位数 B.一定是四位数 C.可能是三位数或四位数
3. 把 $13 - 8 = 5$ 和 $30 \div 5 = 6$ 合并成一个综合算式是().
 A. $8 - 30 \div 5$ B. $13 - 30 \div 5$ C. $30 \div (13 - 8)$
4. 连续两个月有 31 天的月份是().
 A.3 月和 4 月 B.7 月和 8 月 C.11 月和 12 月
5. 淘气  看到的是().



三、耐心审题，认真计算.(30 分)

1. 直接写出得数.(8 分)

$3.8 \text{元} + 0.2 \text{元} =$ $7.5 + 4.3 =$ $13 \times 3 =$ $400 \div 8 =$
 $27 - 3 \times 5 =$ $225 + 375 =$ $24 \times 4 =$ $106 \times 5 =$

2. 竖式计算.(9 分)

$260 \times 8 =$ $37 \times 6 =$ $406 - 235 + 149 =$

元 角
 12. 0
 - 11. 3

3. 脱式计算.(9 分)

$160 \div 4 - 24$ $450 - 15 \times 8$ $1000 - (365 - 61)$

4. 只列式，不计算.(4 分)

- (1)一个数比 8 的 9 倍少 27，这个数是多少?
 (2)500 减去 60 的差除以 9，商是多少?

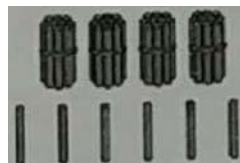
四、用心观察，正确操作.(10 分)

1. 圈一圈，算一算.

$12 \times 3 = (\quad)$

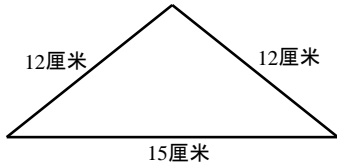


$46 \div 2 = (\quad)$

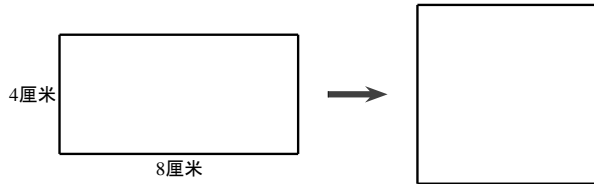


2. (1)计算下面图形的周长.

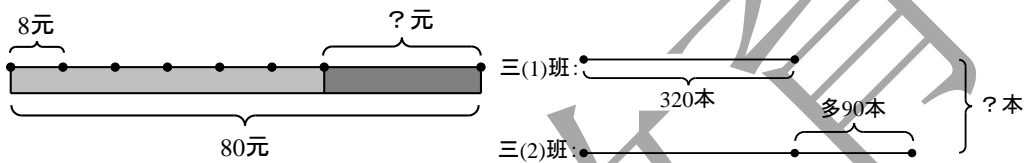




(2) 计算用这根铁丝围成的正方形的边长.

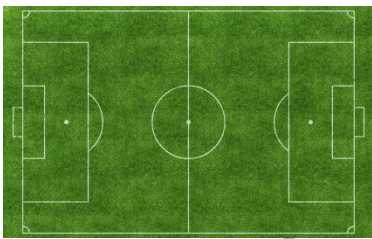


3. 看图列式, 不计算.

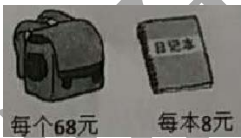


五、留心生活, 解决问题.(共 25 分)

1. 标准足球场长 105 米, 宽 68 米, 它的周长是多少米?



2. 笑笑有 100 元, 她买了一个书包, 余下的钱可以买几本日记本?



3. 学校图书室有 8 个书架, 每个书架有 4 层, 每层可存放书刊 120 本, 图书室一共可以存放书刊多少本? [先填空, 再解答]

根据“每个书架有 4 层, 每层可存放书刊 120 本, ”可以求出_____.

4. 下面是武汉到南京的长江航线示意图.



	航程/千米
武汉—九江	269
武汉—芜湖	637
武汉—南京	733

芜湖到南京有多少千米? 先在上图中画一画, 再算一算.

5. 《动物世界》比《儿童故事》便宜 6.9 元, 一本《动物世界》多少元?





【B 卷】

尽心面对，挑战自我。(20 分)

1. 加上小括号，使下面的算式成立。

$18 - 9 \div 3 = 3$

$60 \times 5 + 3 = 480$

$320 - 180 \div 120 = 20$

2. 把下面的算式补充完整。

$$\begin{array}{r} 30\ \square \\ + \square 9\ 5 \\ \hline 5\ \square\ 2 \end{array}$$

$$\begin{array}{r} 40\ 5 \\ - \square 8 \\ \hline \square 2\ \square \end{array}$$

$$\begin{array}{r} \square 6\ \square \\ \times \quad 6 \\ \hline 5\ \square 7\ 2 \end{array}$$

3. 爷爷想用篱笆靠一面墙围成一个长 8 米，宽 5 米的长方形菜园，他至少要用篱笆() 米。
4. 在计算小数加法时，小玉把 2.65 看成了 26.5，结果得 37.02.正确的结果是()。
5. 2018 年 2 月 1 日是星期四，2 月 16 日是正月初一，正月初一这天是星期()。
6. 如下图，一个正方形被平均分成了两个小长方形，每个长方形的周长都是 18 厘米，这个正方形的周长是多少厘米？

