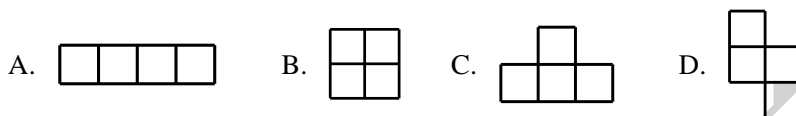



- 3. 五边形的周长一定比四边形的周长大. ()
- 4. 两位数乘一位数, 积一定是两位数. ()
- 5. 一年中 6 个月是大月, 有 6 个月是小月. ()


三、反复比, 正确选. (把正确答案的番号填在括号内)

- 1. 460×5 积的末尾有()个 0.
A.1 B.2 C.3 D.0
- 2. 用 4 个边长 1 厘米的正方形分别拼成下面的图形, 周长最短的是()



- 3. 三年级学生为希望小学捐款, 平均每人捐款 5 元, 一个班级有 40 人, 全年级有 4 个班级, 总共捐款多少元? 正确的算式是().
A. $40 \times 5 \times 4$ B. $40 \times 5 \div 4$ C. $40 \div 5 \times 4$ D. $40 \div 5 \div 4$
- 4. 2018 年第一季度一共有()天.
A.88 B.89 C.90 D.91

- 5.  看到的是().



四、我能算.

- 1. 直接写出得数.

$150 \div 3 =$	$2 \times 50 =$	$180 \div 3 =$	$9 \times 50 =$
$21 \times 4 =$	$64 \div 2 =$	$4 \times 13 =$	$540 \div 6 =$
$170 + 320 =$	$490 - 360 =$	$428 - 216 =$	$1000 - 450 =$
$0.7 - 0.2 =$	$0.6 + 0.3 =$	$6.1 + 0.4 =$	$9.1 - 0.1 =$
$60 \div 2 + 10 =$	$12 \times 0 + 12 =$	$70 \div 7 - 7 =$	$100 - 100 \div 1 =$
- 2. 列竖式计算.

$42 \times 7 =$	$153 \times 6 =$	$5.3 \text{元} + 0.8 \text{元} =$	$10 \text{元} - 1.6 \text{元} =$
-----------------	------------------	---------------------------------	--------------------------------
- 3. 用递等式计算.

① $700 + 136 - 246$	② $465 - (165 - 122)$	③ $858 - 341 - 265$
④ $21 \times 4 \times 5$	⑤ $480 - 8 + 156$	⑥ $(92 + 56) \times 7$

五、连一连.



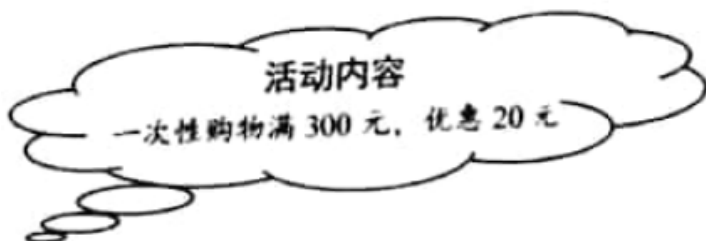
11: 00	14: 00	23: 00	17: 00
晚上11时	下午5时	下午2时	上午11时

六、解决应用问题.

1. 养兔场养了 24 只白兔和 36 只灰兔, 每个笼子养 6 只, 需要多少个笼子?
2. 一年级的人数比二年级多 47 人, 你能算出一年级和三年级分别有多少人吗?

一年级	二年级	三年级	合计
	216人		750人

3. 超市举行促销活动, 笑笑的妈妈买了 6 盒巧克力饼干, 每盒 50 元, 笑笑的妈妈实际要付多少元?



4. 一个长方形的池塘, 宽是 16 米, 长是宽的 2 倍, 这个池塘的周长是多少米?
5. 小马每天从家出发驮着粮食去磨坊, 先上山 8 分钟, 走了 560 米, 再下山, 每分钟走 90 米, 走了 7 分钟.
 - (1) 小马 9:00 出发, 6 分后大约走到什么位置? 在图中用☆标出来.
 - (2) 小马每天从家去磨坊要走多少米?



附加题:

1. 找规律, 填一填.
 - (1) 1、4、9、16、25、()...
 - (2) 2、5、14、41、()...

2. 请把

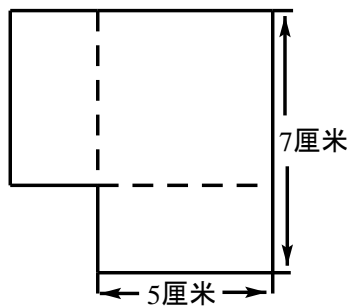
--	--	--	--

四张扑克牌凑成 24

的算式是()



3. 把两个大小相同的长方形，长 7 厘米，宽 5 厘米，把它们重叠在一起，重叠后组成的新图形的周长是()厘米.



4. 下面竖式中， $a = (\quad)$ ， $b = (\quad)$ ， $c = (\quad)$ ， $d = (\quad)$

$$\begin{array}{r} a \ b \ c \\ \times \quad \quad 9 \\ \hline c \ d \ a \end{array}$$

