

# 成都市青羊区小学 2017—2018 年度上期

## 一年级数学期末检测题

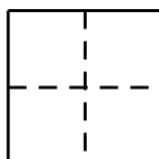
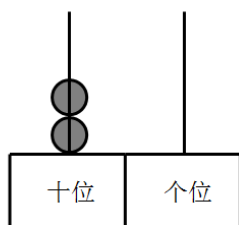
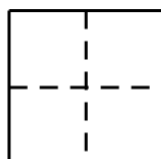
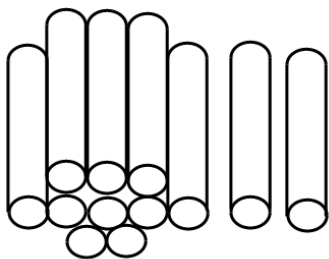
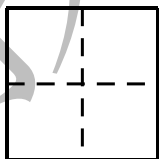
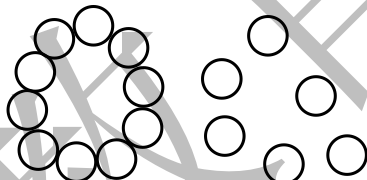
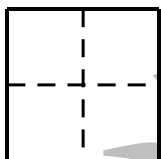
编者: 唐致瑶老师

### 一、口算.(15 分, 每题 0.5 分)

$7+2=$  \_\_\_  $8+4=$  \_\_\_  $18-3=$  \_\_\_  $4+5=$  \_\_\_  $12+5=$  \_\_\_  
 $5+8=$  \_\_\_  $9-4=$  \_\_\_  $11+2=$  \_\_\_  $9-2=$  \_\_\_  $4+9=$  \_\_\_  
 $9-9=$  \_\_\_  $7+5=$  \_\_\_  $10-4=$  \_\_\_  $7+8=$  \_\_\_  $4-0=$  \_\_\_  
 $17-4=$  \_\_\_  $10-8=$  \_\_\_  $5+6=$  \_\_\_  $12-1=$  \_\_\_  $10+6=$  \_\_\_  
 $8+6=$  \_\_\_  $9+4=$  \_\_\_  $7-5=$  \_\_\_  $16-4=$  \_\_\_  $3+4=$  \_\_\_  
 $2+9=$  \_\_\_  $6+7=$  \_\_\_  $8+2=$  \_\_\_  $3+9=$  \_\_\_  $5+7=$  \_\_\_

### 二、我会填.(30 分, 1~5 小题每空 1 分, 6、7 小题 4 分, 8 题 6 分)

#### 1. 看图写数

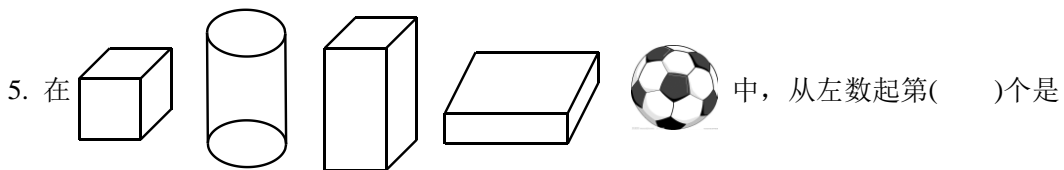


2. 5 个一和 1 个十组成( ), 2 个十是( )  
 3. 17 的个位上是( ), 十位上是( )  
 4. 想一想, 填一填.

	12	13		15	
--	----	----	--	----	--

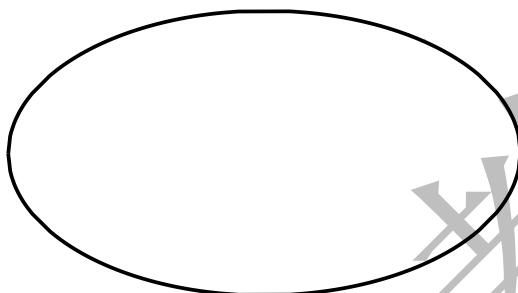
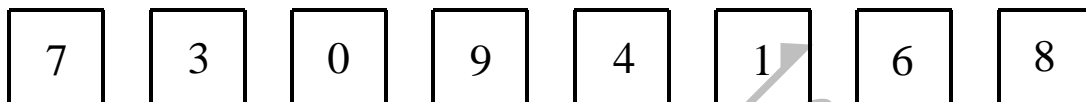
18	16		12		
----	----	--	----	--	--



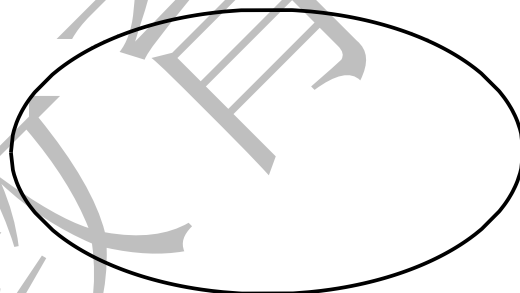


圆柱, 从左数第 3 个是( ).

6. 分一分(4 分).



小于5的数



大于5的数

7. 比一比, 画一画. (4 分, 每小题 2 分)

画 , 使  比  多 2 个.



画 , 使  比  少 4 个



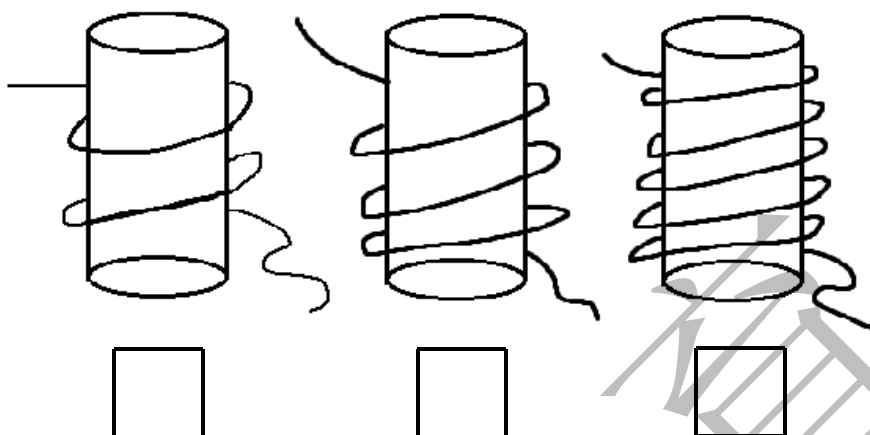
8. 按要求填数.(6 分)

7 和 5 在最上面一行, 7 在 5 的右面. 6 和 2 在最下面一行, 6 的左边是 2. 8 在 2 和 5 的中间. 8 的右面是 4

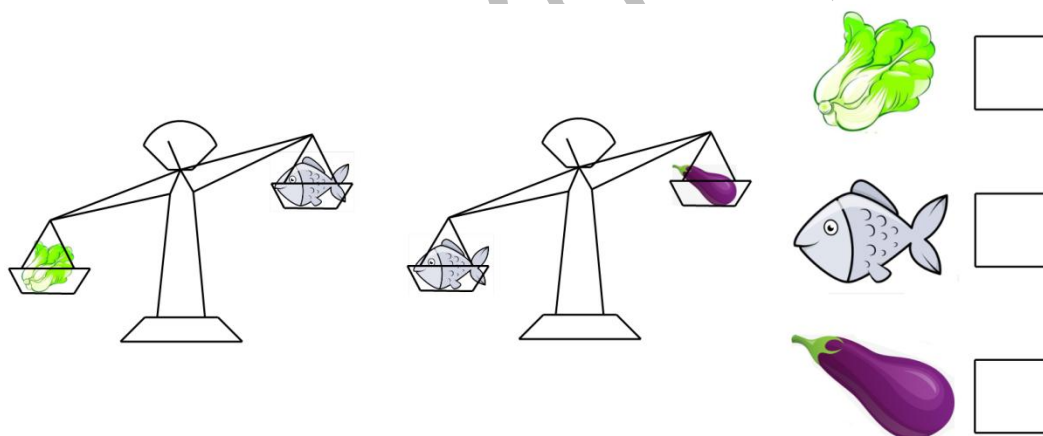



三、我会看(14 分)

1. 在最长的下面画 √，在最短的下面画 ○。(3 分)

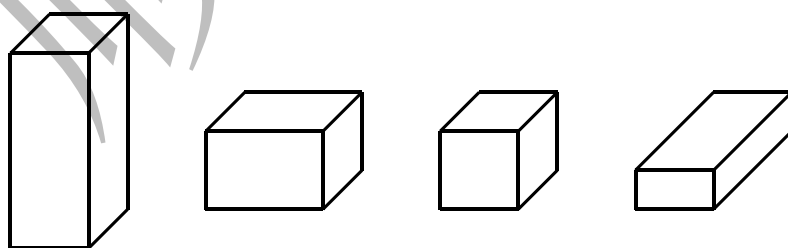


2. 在最重的旁边画 √，在最轻的旁边画 ○。(3 分)

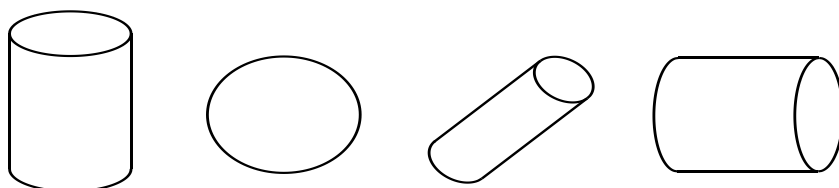


3. 圈出不是同一类的那一个。(4 分)

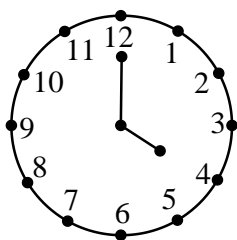
(1)



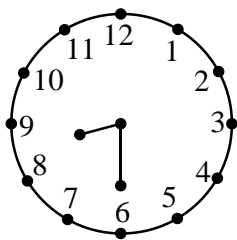
(2)



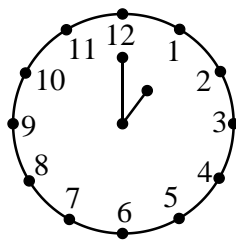
4. 连一连.(4 分)



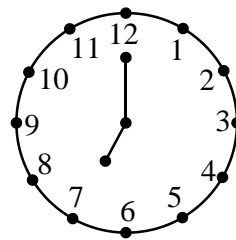
8时半



4时



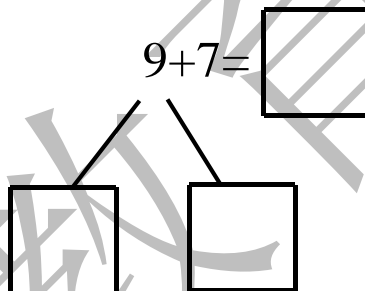
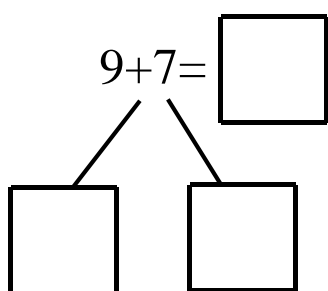
7时



1时

四、我会算(14 分)

1. 用“凑十法”计算.(4 分)



2. 按规律写算式.(6 分)

(1)  $10 - 4 = \underline{\quad}$      $10 - 5 = \underline{\quad}$      $10 - 6 = \underline{\quad}$      $\underline{\quad} - \underline{\quad} = \underline{\quad}$

(2)  $6 + 5 = \underline{\quad}$      $7 + 5 = \underline{\quad}$      $8 + 5 = \underline{\quad}$      $\underline{\quad} + \underline{\quad} = \underline{\quad}$

3. 在  $\bigcirc$  里填上“>”、“<”或“=”.(4 分)

$15 \bigcirc 12$

$4 + 11 \bigcirc 11$

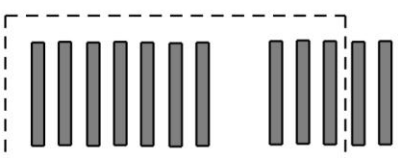
$5 + 8 \bigcirc 8 + 5$

$10 - 3 \bigcirc 10 + 3$



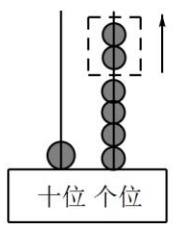
五、我会写。(15 分, 每小题 3 分)

1



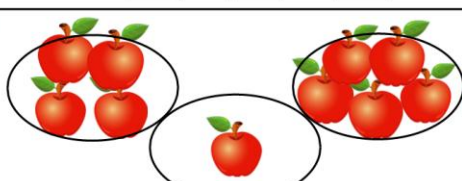
+  =

2



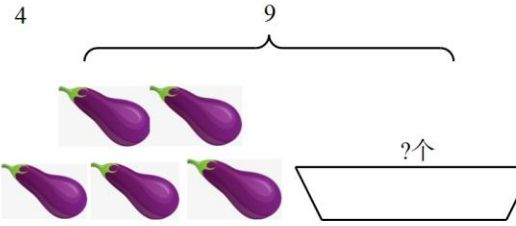
-  =

3



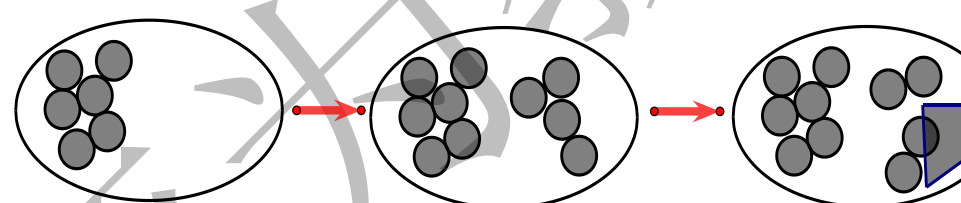
○  ○  =

4



○  =

5.



○  ○  =

六、我会解。(12 分, 每题 4 分)

1. 丽丽看书, 上午看了 8 页. 下午和上午看的同样多, 丽丽这一天一共看了多少页?

○  =  (页)

答: 丽丽这一天一共看了\_\_\_\_\_页书.

2. 车上原来有 9 人, 到站后 2 人下车, 又有 7 人上车, 现在车上有多少人?

○  ○  =  (人)

答: 现在车上有\_\_\_\_\_人.



3. 我们一共有 10 个同学.



小明前面有3人，  
小明的后面有几人？

算式：\_\_\_\_\_

答：小明后面有\_\_\_\_\_人.

【选做题】20分.

1.

$$\left\{ \begin{array}{l} 14 - \text{草莓} = 8 \\ \text{菠萝} + \text{草莓} = 13 \end{array} \right.$$

$$\text{草莓} = \square \quad \text{菠萝} = \square$$

2. 把 2、3、4、5 分别填入  $\square$  中，

$$\square + \square - \square = \square$$

$$\square + \square - \square = \square$$

